

# प्रश्न बैंक

सत्र - 2021-22

विषय—गणित  
कक्षा — पहली



राज्य शैक्षिक अनुसंधान और प्रशिक्षण परिषद्  
छत्तीसगढ़



# प्रकाशन वर्ष 2021

## संरक्षक

डी. राहुल वेकंट 'IAS'  
संचालक, SCERT

## मार्गदर्शक

डॉ.योगेश शिवहरे  
अतिरिक्त संचालक, SCERT

## संयोजक

श्रीमती कौशिल्या खुटे

## विशेष सहयोग

डॉ.विद्यावती चन्द्राकर

## विषय विशेषज्ञ

श्री पी.आर.साहू  
श्री मुकुन्द साहू

## लेखन

द्रोण साहू

## टंकण

निखिल कुमार साहू

## आवरण

सुधीर कुमार वैष्णव

---

## प्रकाशक

राज्य शैक्षिक अनुसंधान और प्रशिक्षण परिषद् छत्तीसगढ़  
शंकर नगर, रायपुर

## आमुख

कोरोना वायरस के संक्रमण से बचाव के लिए पूरे देश में सभी शैक्षणिक संस्थाएँ शिक्षा सत्र 2020–21 में बंद थी। विषम परिस्थिति को देखते हुए छत्तीसगढ़ शासन द्वारा 'पढ़ई तुँहर दुआर', 'मोहल्ला कक्षा', लाउडस्पीकर, बुल्टू के बोल, जैसे अनेक नवाचारी कार्यक्रम प्रारंभ किए गए थे। जिसके तहत हमारे शिक्षक ज्यादा से ज्यादा बच्चों को सीखने का अवसर प्रदान करते रहे। 2021–22 में भी स्कूल खुलने में अनिश्चितता की स्थिति है और इस स्थिति को देखते हुए आयुक्त लोक शिक्षण छत्तीसगढ़ द्वारा पुनः ऑनलाइन कक्षा, मोहल्ला कक्षा/पारा कक्षा के संचालन के लिए आदेश जारी कर दिया गया है, जिसमें बच्चों की नियमित उपस्थिति ली जायेगी तथा पढ़ाए गए विषयों पर प्रतिमाह आकलन किए जाएँगे।

इस तरह से सत्र 2021 में भी विभिन्न नवाचारी माध्यमों का आधार लिया जाकर बच्चों की पढ़ाई (सम्पूर्ण पाठ्यक्रम) पूर्ण किया जाना है। 'पढ़ई तुँहर दुआर' के अंतर्गत परिषद् द्वारा ऑनलाइन क्लासेस, आडियो, विडियो, मेनुअल वर्कशीट का निर्माण किया गया। इसी निरन्तरता के अनुक्रम में विषयानुसार सभी कक्षाओं के लिए (1–10) प्रश्न बैंक का निर्माण किया गया है। निर्मित 'प्रश्न बैंक' में कक्षा के अधिगम स्तर का ध्यान रखा गया है तथा सम्पूर्ण पाठ से प्रश्न निकाले गए हैं।

शिक्षक या शिक्षा सारथी जब मोहल्ला अथवा पारा कक्षा में बच्चों से जुड़ेंगे तो यह 'प्रश्न बैंक' पाठ को आगे बढ़ाने में उनकी मदद करेगा।

सृजित 'प्रश्न बैंक' में समाहित प्रश्न अनुप्रयोग, कौशल एवं समझ आधारित है। प्रश्न और उत्तर की भाषा स्तरानुकूल है। 'प्रश्न बैंक' के प्रश्नों का उपयोग वर्तमान में 'पढ़ई तुँहर दुआर' के अंतर्गत ऑनलाइन/ऑफलाइन अध्ययन-अध्यापन के दौरान बच्चों में अपेक्षित कौशलों के विकास को जाँचने के लिए किया जा सकेगा। इन प्रश्नों से पाठ्यपुस्तक में वर्णित अवधारणाओं को और अधिक पुष्ट करने में मदद मिलेगी। इन प्रश्नों के माध्यम से बच्चे स्वयं को सक्रिय रख पाएँगे तथा बच्चों में स्वयं करके सीखने, अपने परिवेश को समझने, तर्क करने, चिंतन करने, अपने अनुभवों की अभिव्यक्ति आदि गुणों का विकास हो सकेगा। इस 'प्रश्न बैंक' के माध्यम से बच्चों में भाषायी कौशलों के विकास के साथ विषय-वस्तु की समझ विकसित होगी। छात्र पाठ पढ़कर स्वतः प्रश्न निर्माण कर पाएँगे।

यह 'प्रश्न बैंक' शिक्षक, पालक एवं छात्रों के लिए उपयोगी है इतना ही नहीं विद्यार्थी अपने विचार, समझ और अपनी प्रगति के बारे में स्वयं आकलन कर सकेंगे।

संचालक

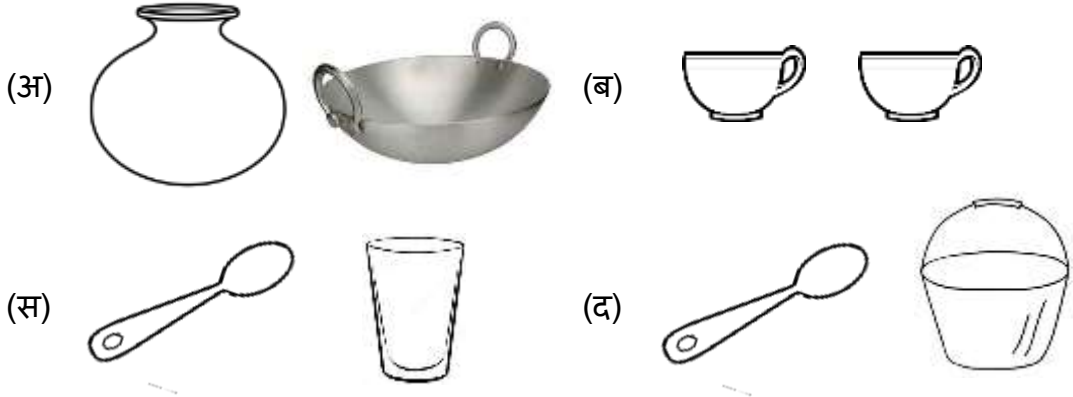
एस.सी.ई.आर.टी.,छ.ग.,रायपुर

## गणित कक्षा - 1

क्र.	पाठ का नाम	पृष्ठ क्र.
1.	गणित के खेल	1-3
2.	तुलना	4-8
3.	एक से नौ तक की संख्याएँ	9-13
4.	जोड़ना	13-17
5.	20 तक की संख्याएँ	18-20
6.	पचास तक की संख्याएँ	21-23
7.	घटाना	24-26
8.	सौ तक की संख्याएँ	27-29
9.	लंबाई	30
10.	धारिता	31
11.	मुद्रा	32-34
12.	समय	35-36
13.	आकृति	37
14.	आँकड़ों की समझ	38-39


**कक्षा - 1**  
**विषय गणित**  
**अध्याय - 1 गणित के खेल**

प्रश्न 1. किस विकल्प में एक जैसे चित्र हैं ?




उत्तर - (ब) 

प्रश्न 2. किस विकल्प में एक जैसे फल के चित्र हैं ?



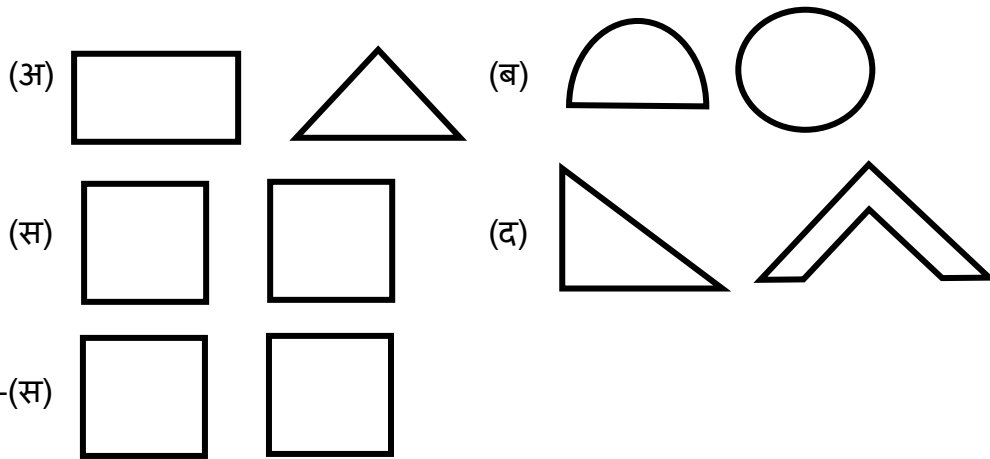
उत्तर - (अ) 

प्रश्न 3. इनमें से एक जैसे कौन से है?

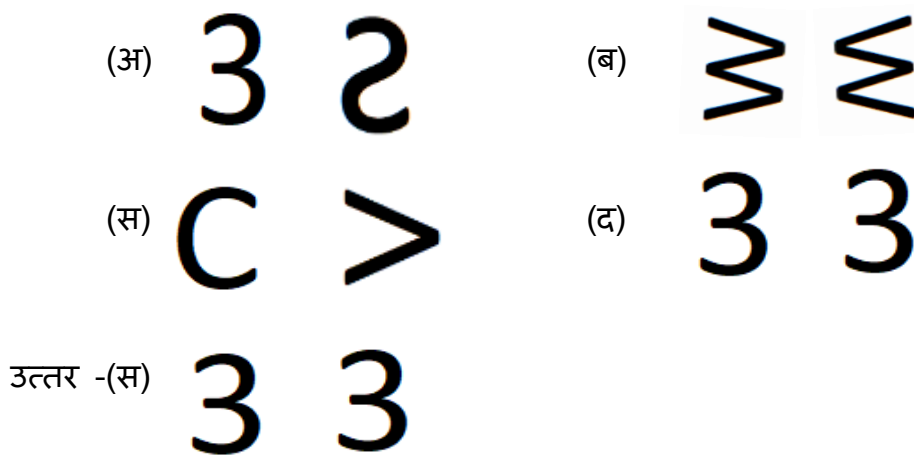


उत्तर - (ब) 

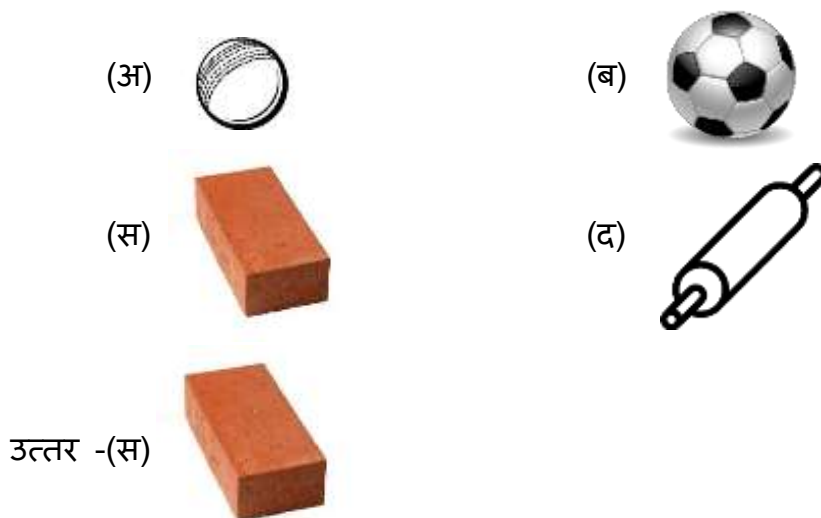
प्रश्न 4. किस विकल्प में एक जैसी आकृतियाँ हैं?



प्रश्न 5. किस विकल्प में एक जैसी आकृतियाँ हैं?




प्रश्न 6. दिए गए विकल्प में सरकने वाली वस्तु है -




प्रश्न 7. दिए गए विकल्प में लुढ़कने वाली वस्तु है -



उत्तर - (स) 

प्रश्न 8. दिए गए विकल्प में सरकने वाली वस्तु है -



उत्तर - (स) 

## अध्याय - 2

### तुलना

प्रश्न 1. किस विकल्प में धागा सबसे लंबा है?




उत्तर - (ब)

प्रश्न 2. किस विकल्प में बैट सबसे छोटा है?



उत्तर - (अ)

प्रश्न 3. किस विकल्प में सीढ़ी सबसे लंबी है?



उत्तर - (अ)



प्रश्न 4. दिए गए विकल्प में सबसे बड़ा चूहा कौन-सा है?



उत्तर - (स)



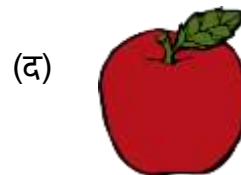

प्रश्न 5. दिए गए विकल्प में सबसे छोटी मछली कौन-सी है?



उत्तर - (स)



प्रश्न 6. दिए गए विकल्प में सबसे कम भारी वस्तु कौन-सी है?



उत्तर - (स)



प्रश्न 7.



(I) दिए गए चित्र में पेड़ के सबसे पास क्या है?

(अ)



(ब)



(स)



(द)



उत्तर - (स)



(II) दिए गए चित्र में मंदिर से सबसे दूर क्या है?

(अ)



(ब)



(स)




(द)




उत्तर - (ब)



प्रश्न 8.




(I) दिए गए चित्र में पेड़ के सबसे ऊपर कौन है?



उत्तर - (स)




(II) चित्र के अनुसार दिए गए विकल्प में पेड़ के नीचे कौन है?



उत्तर - (अ)



प्रश्न 9.



(I) दिए गए चित्र में टोकरी के बाहर का वस्तु है?

(अ)



(ब)



(स)



(द)



उत्तर - (स)



(II) दिए गए चित्र में टोकरी के अंदर का वस्तु है?

(अ)



(ब)



(स)



(द)



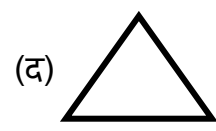
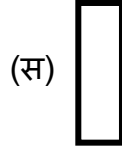
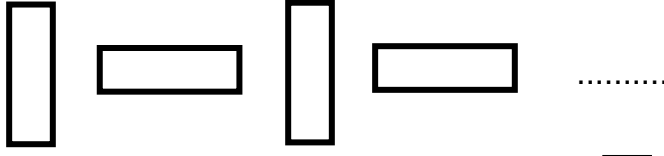
उत्तर - (ब)



### अध्याय - 3

### एक से नौ तक की संख्याएँ

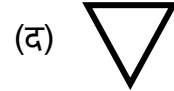
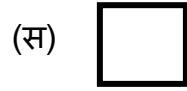
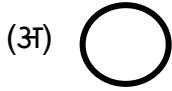

प्रश्न 1. चित्रों के सही क्रम में अगली आकृति कौन-सी होगी?



उत्तर - (स)



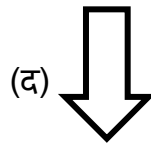
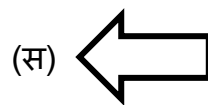
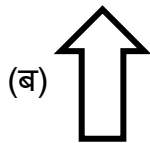

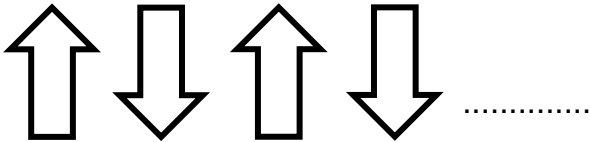
प्रश्न 2. चित्रों के सही क्रम में अगली आकृति कौन-सी होगी?



उत्तर - (स)



प्रश्न 3. अगली आकृति कौन सी होगी?




उत्तर - (ब)



प्रश्न 4. किस विकल्प में एक ही जैसी पतंगो की जोड़ी है?




(ब)



(द)





उत्तर - (स)

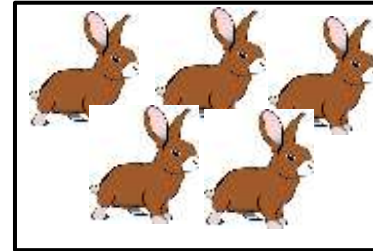
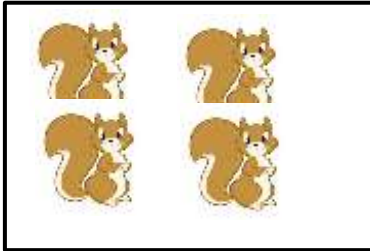


प्रश्न 5. किस विकल्प में चित्रों की संख्या बराबर है?



(अ)





(ब)



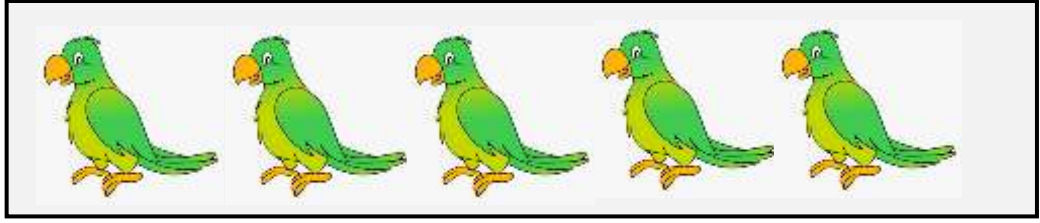
(स)



उत्तर - (स)



प्रश्न 6. इस चित्र में कितने तोते हैं?



(अ) 2


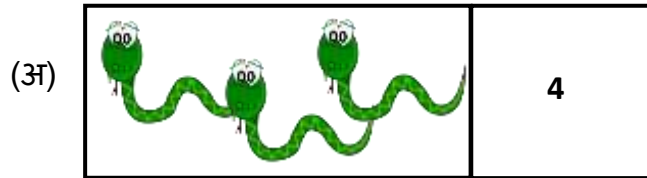
(ब) 3

(स) 4

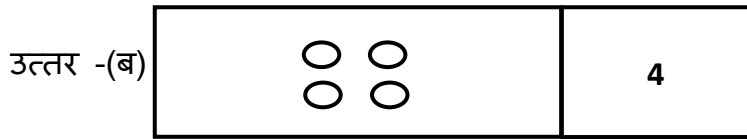
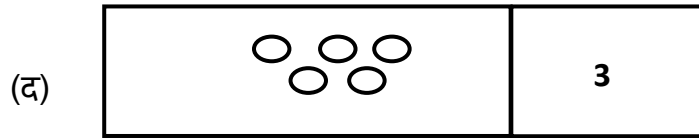
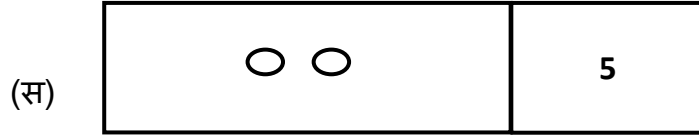
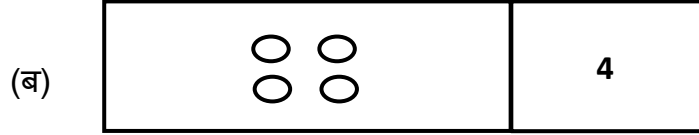
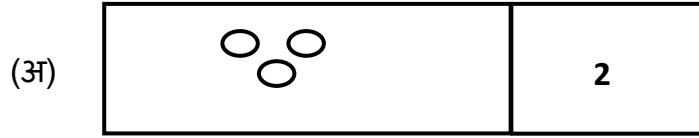
(द) 5

उत्तर - (द) 5

प्रश्न 7. इनमें से किस विकल्प में चित्र और अंको का सही मेल है?



प्रश्न 8. इनमें से किस विकल्प में चित्र और अंको का सही मेल है?



प्रश्न 9. गिनकर बतायें खाली जगह पर कौन सा अंक आयेगा?



(अ) 2

(ब) 3

(स) 4

(द) 5

उत्तर - (ब) 3

प्रश्न 10. खाली जगह पर कौन सी संख्या आयेगी?



(अ) 7

(ब) 6

(स) 5

(द) 4

उत्तर - (द) 4



प्रश्न 11. संख्या 7 के ठीक पहले की संख्या कौन सी होगी?

(अ) 2

(ब) 4

(स) 6

(द) 8

उत्तर - (स) 6

प्रश्न 12.    खाली डिब्बों में कौन सी संख्या आएगी?

(अ) 2

(ब) 3

(स) 6

(द) 7

उत्तर - (द) 7

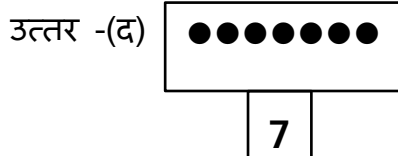
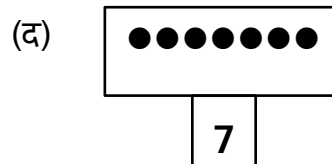
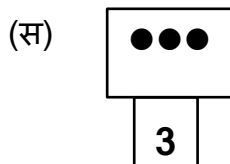
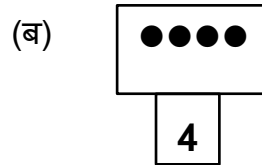
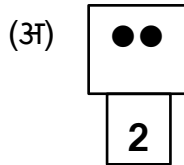
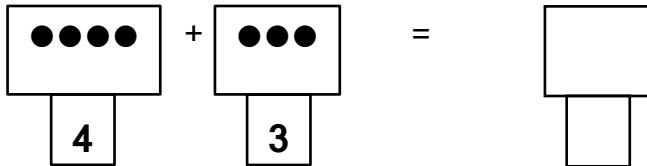
## अध्याय - 4

### जोड़ना




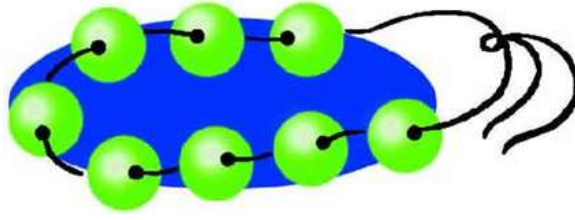
प्रश्न 1. खाली स्थान पर कितने मेंढक होंगे?




प्रश्न 2. खाली स्थान पर कितनी बिंदियाँ और कौन सी संख्या आएगी?




प्रश्न 3. इस माला में कितने मोती और डालें कि 9 मोतियों की माला बन जाए?



प्रश्न 4. खाली जगह पर कितने चित्र होंगे।



प्रश्न 5. खाली जगह पर कितने चित्र होंगे।



(अ) 

(ब) 

(स) 

(द) 

उत्तर - (द) 

प्रश्न 6. खाली स्थान पर कौन सी संख्या आएगी?

$$5 + 5 = \dots\dots\dots$$

(अ) 4

(ब) 6

(स) 8

(द) 10

उत्तर - (द) 10

प्रश्न 7. खाली स्थान पर कौन सी संख्या आएगी?

$$7 + 0 = \dots\dots\dots$$

(अ) 1

(ब) 10

(स) 7

(द) 0

उत्तर - (स) 7

प्रश्न 8. डिब्बे में कौन सी संख्या आएगी?

$$\begin{array}{r} 5 \\ + 4 \\ \hline \square \end{array}$$

(अ) 0

(ब) 6

(स) 8

(द) 9

उत्तर - (द) 9

प्रश्न 9. डिब्बे में कौन-सी संख्या आएगी?

$$\begin{array}{r} 3 \\ + 6 \\ \hline \end{array}$$

(अ) 10

(ब) 9

(स) 7

(द) 6

उत्तर -(ब) 9

प्रश्न 10. जोड़ने पर कितना होगा?

$$\begin{array}{r} 0 \\ + 9 \\ \hline \end{array}$$

(अ) 0

(ब) 9

(स) 10

(द) 90

उत्तर -(ब) 9

अध्याय 5  
20 तक की संख्याएँ

प्रश्न 1. इन तीलियों से 10 के कितने बंडल बनेंगे?



- (अ) 4 (ब) 3  
(स) 2 (द) 1


उत्तर - (द) 1

प्रश्न 2. 1 बंडल में तीलियों की संख्या कितनी रखते हैं?

- (अ) 4 (ब) 10  
(स) 8 (द) 6

उत्तर - (ब) 10


प्रश्न 3. इन गाजरों से कितने बंडल बनेंगे और कितने गाजर बच जाएंगे?




- (अ) 2 बंडल 1 गाजर (ब) 1 बंडल 1 गाजर  
(स) 1 बंडल 2 गाजर (द) 2 बंडल

उत्तर - (स) 1 बंडल 2 गाजर

प्रश्न 4. इन बिंदियों के लिए सही विकल्प होगा।



प्रश्न 5. इन फूलों से कितने डिब्बे और कितने खुले बनेंगे?



(अ) 2 डिब्बे 1 खुला


(ब) 1 डिब्बा 2 खुला

(स) 1 डिब्बा 4 खुला

(द) 4 डिब्बे 1 खुला

उत्तर - (स) 1 डिब्बा 4 खुला

प्रश्न 6. इसके लिए सही संख्या क्या होगी?



(अ) 1


(ब) 11

(स) 12

(द) 14

उत्तर - (स) 12

प्रश्न 7. खाली स्थान पर कौन सी संख्या होगी?



(अ) 14


(ब) 16

(स) 18

(द) 20

उत्तर -(ब) 16

प्रश्न 8 इन बिन्दुओं को गिनने से कितना आएगा?



(अ) 11


(ब) 18

(स) 19

(द) 20

उत्तर -(ब) 18

प्रश्न 9. इस डिब्बे और खुले में से एक खुला कम करने पर कितना होगा?



(अ) 17

(ब) 18

(स) 19

(द) 20

उत्तर -(ब) 18

प्रश्न 10. खाली डिब्बे में कौन सी संख्या आएगी?



(अ) 4

(ब) 5

(स) 6

(द) 8


उत्तर -(द) 8



## अध्याय - 6

### पचास तक की संख्याएँ

प्रश्न 1. इसे कितना पढ़ेंगे?



(अ) 40


(ब) 30

(स) 20

(द) 50

उत्तर -(ब) 30

प्रश्न 2. 40 को डिब्बों में कैसे लिखेंगे -



उत्तर -(द)

प्रश्न 3. डिब्बो का अर्थ क्या होता है?

(अ) इकाई

(ब) दहाई

(स) खुला

(द) तीली

उत्तर -(ब) दहाई

प्रश्न 4. 1 डिब्बा कौन सी संख्या को दर्शाता है?

(अ) 5

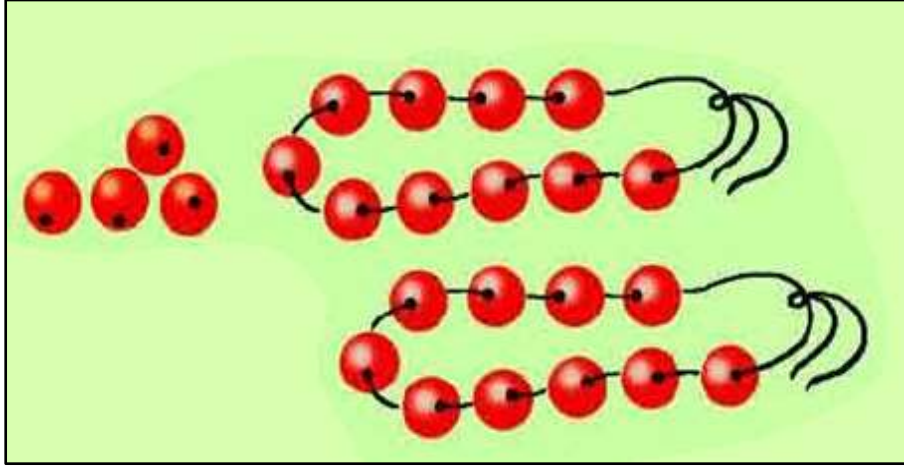
(ब) 8

(स) 10

(द) 20

उत्तर -(स) 10

प्रश्न 5. कुल कितनी मोती है?



(अ) 19

(ब) 22

(स) 24

(द) 26

उत्तर -(स) 24

प्रश्न 6. इन संख्याँओ को छोटे से बड़े क्रम में रखने पर कौन सा क्रम सही होगा?

20, 29, 24

(अ) 24, 20, 29

(ब) 29, 24, 20

(स) 29, 20, 24

(द) 20, 24, 29

उत्तर - (द) 20, 24, 29

प्रश्न 7. इन संख्याँओ को बड़े से छोटे क्रम में रखने पर कौन सा क्रम सही होगा?

26, 28, 18

(अ) 26, 18, 28

(ब) 18, 28, 26

(स) 28, 26, 18

(द) 28, 18, 26

उत्तर -(स) 28, 26, 18

प्रश्न 8. इनके बीच की संख्या कौन सी होगी?



(अ) 48

(ब) 46

(स) 40

(द) 41

उत्तर -(अ) 48

प्रश्न 9. 44 के ठीक पहले व बाद की संख्या कौन सी होगी?

44

(अ) 43, 44

(ब) 44, 45

(स) 45, 43

(द) 43, 45

उत्तर -(द) 43, 45

## अध्याय 7

### घटाना

प्रश्न 1. चित्र को देखकर बताओ कि खाली डिब्बे में कौन सी संख्या आएगी?



4



3

-

=



(अ) 4


(ब) 3

(स) 2

(द) 1


उत्तर -(द) 1

प्रश्न 2. चित्र को देखकर बताओ कि खाली डिब्बों में कौन-कौन सी संख्याएँ आएँगी?



-

=



(अ) 2, 3, 5

(ब) 5, 2, 3

(स) 5, 5, 3

(द) 3, 5, 2

उत्तर -(ब) 5, 2, 3

प्रश्न 3. खाली स्थान में कौन सी संख्या आएगी?

$$5 - 2 = \square$$

(अ) 2

(ब) 3

(स) 4

(द) 5

उत्तर -(ब) 3

प्रश्न 4. खाली स्थान में कौन सी संख्या आएगी?

$$\square - 4 = 4$$

(अ) 6

(ब) 7

(स) 8

(द) 9

उत्तर -(स) 8

प्रश्न 5. खाली स्थान में कौन सी संख्या आएगी?

$$7 + \square = 9$$

(अ) 3

(ब) 2

(स) 1

(द) 0

उत्तर -(ब) 2

प्रश्न 6. खाली डिब्बे में कौन सी संख्या आएगी?

$$\begin{array}{r} 9 \\ - 0 \\ \hline \square \end{array}$$

(अ) 9

(ब) 1

(स) 0

(द) 8

उत्तर -(अ) 9

प्रश्न 7. खाली डिब्बे में कौन सी संख्या आएगी?

$$3 - 3 = \square$$

(अ) 3

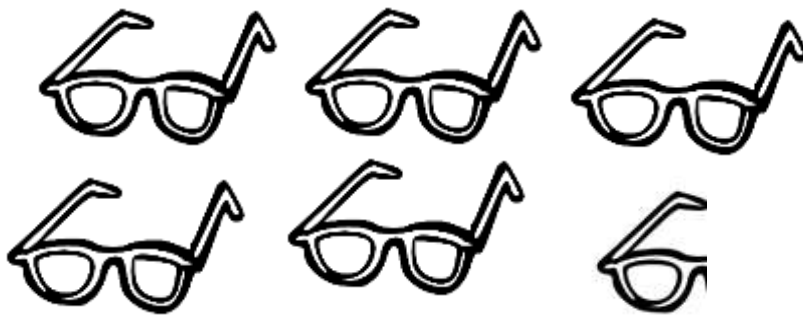
(ब) 6

(स) 7

(द) 0

उत्तर -(द) 0

प्रश्न 8. टूटे हुए चश्मा को हटाने के बाद गिनकर बताओ कि कितने चश्मे हैं?



(अ) 4

(ब) 5

(स) 6

(द) 7

उत्तर -(ब) 5

प्रश्न 9. खाली डिब्बे में कौन सी संख्या आएगी?

$$0 + 5 = \square$$

(अ) 0

(ब) 5

(स) 6

(द) 1

उत्तर -(ब) 5

प्रश्न 10. खाली डिब्बे में कौन सी संख्या आएगी?

$$\square + 3 = 3$$

(अ) 2

(ब) 3

(स) 1

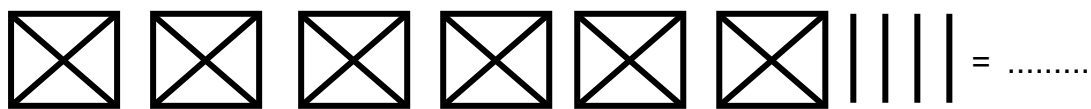
(द) 0

उत्तर -(द) 0

## अध्याय 8

### सौ तक की संख्याएँ

प्रश्न 1. खाली स्थान में कौन सी संख्या आएगी?



(अ) 54


(ब) 84

(स) 64

(द) 74

उत्तर -(स) 64

प्रश्न 2. 50 को डिब्बे और खुले में किस तरह से लिखा जाएगा?



प्रश्न 3. ठीक पहले की संख्या कौन सी होगी?

, 58

(अ) 53

(ब) 64

(स) 65

(द) 57

उत्तर -(द) 57

प्रश्न 4. ठीक बाद की संख्या कौन सी होगी?

68,

(अ) 59

(ब) 69

(स) 79

(द) 89

प्रश्न उत्तर -(ब) 69

प्रश्न 5. बीच की संख्या कौन सी होगी?

88  90

(अ) 78

(ब) 99

(स) 98

(द) 89

उत्तर -(द) 89

प्रश्न 6 इन डिब्बों और खुले के लिए कौन सी संख्या सही होगी?



(अ) 98

(ब) 99

(स) 98

(द) 88

उत्तर -(ब) 99

प्रश्न 7. बढ़ते क्रम में रखने पर कौन सा विकल्प सही होगा?

60, 78, 49

(अ) 49, 78, 60

(ब) 60, 49, 78

(स) 49, 60, 78

(द) 78, 60, 49

उत्तर -(स) 49, 60, 78

प्रश्न 8. घटते क्रम में रखने पर कौन सा विकल्प सही होगा?

46, 86, 76

(अ) 76, 46, 86

(ब) 86, 76, 46

(स) 86, 46, 76

(द) 46, 76, 86

उत्तर - (ब) 86, 76, 46



प्रश्न 9. बीच की संख्या कौन सी होगी?

67  69

(अ) 58

(ब) 68

(स) 78

(द) 88

उत्तर -(ब) 68

प्रश्न 10. बढ़ते क्रम में रखने पर कौन सा विकल्प सही होगा?

79, 89, 69

(अ) 69, 89, 79

(ब) 79, 69, 79

(स) 89, 79, 69

(द) 69, 79, 89

उत्तर -(द) 69, 79, 89

## अध्याय 9

### लंबाई

प्रश्न 1. किसकी लंबाई को कदम से नापना ठीक होगा?

- (अ) बरामदे की लंबाई (ब) पेंसिल की लंबाई  
(स) पेन की लंबाई (द) चॉक की लंबाई

उत्तर -(अ) बरामदे की लंबाई

प्रश्न 2. किसकी लंबाई को अंगुल से नापना ठीक होगा?

- (अ) कक्षा की लंबाई (ब) क्रिकेट बैट की लंबाई  
(स) पेन की लंबाई (द) शाला भवन की लंबाई

उत्तर -(स) पेन की लंबाई

प्रश्न 3. किसकी लंबाई को बित्ते से नापना ठीक होगा?

- (अ) शाला के मैदान की लंबाई (ब) कुर्सी की लंबाई  
(स) नदी की लंबाई (द) कबड्डी के मैदान की लंबाई

उत्तर -(ब) कुर्सी की लंबाई

प्रश्न 4. खुशी ने एक पेंसिल की लंबाई 6 अंगुल नापा है। उसी पेंसिल को खुशी के पापा ने अंगुल से नापा तो पेंसिल की माप होगी -

- (अ) 6 अंगुल होगा।  
(ब) 6 अंगुल से कम होगा।  
(स) 6 अंगुल से अधिक होगा।  
(द) 1 बित्ता होगा।

उत्तर -(ब) 6 अंगुल से कम होगा।

प्रश्न 5. खुशी किसी डंडे को बारी-बारी से अंगुल, बित्ता और हाथ से नापती है किसका माप अधिक प्रदर्शित होगा -

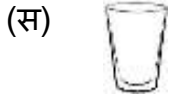
- (अ) अंगुल से मापने पर  
(ब) बित्ता से मापने पर  
(स) हाथ से मापने पर  
(द) तीनों में बराबर

उत्तर -(अ) अंगुल से मापने पर

## अध्याय 10

### धारिता


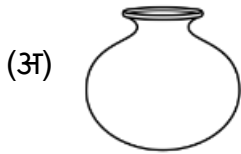
प्रश्न 1. किस बर्तन में सबसे ज्यादा पानी आएगा?



उत्तर - (ब)




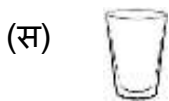
प्रश्न 2. किस बर्तन में सबसे कम पानी आएगा?



उत्तर - (स)



प्रश्न 3. एक कप की मदद से यदि हम इन बर्तनों में पानी डालें तो, इनमें से कौन सा बर्तन सबसे पहले भरेगा?



उत्तर - (स)



## अध्याय 11

### मुद्रा

प्रश्न 1. 5 रुपये का सिक्का कौन सा है?



उत्तर - (द)



प्रश्न 2. 10 रुपये का नोट कौन सा है।



उत्तर - (ब)



प्रश्न 3. कौन सा नोट 100 रुपये का है?

(अ)



(ब)



(स)



(द)



उत्तर -(स)



प्रश्न 4. किस विकल्प के नोट मिलकर 15 रुपये होंगे?

(अ)



(ब)



(स)



(द)



उत्तर -(अ)



प्रश्न 5. दिये गए दोनों सिक्के मिलकर कुल कितनी राशि होगी?



(अ) 9 रुपये

(ब) 8 रुपये

(स) 7 रुपये

(द) 5 रुपये

उत्तर -(स) 7 रुपये

प्रश्न 6. दिये गए सिक्के और नोट कुल कितनी राशि के बराबर होंगे?



(अ) 10 रुपये

(ब) 15 रुपये

(स) 20 रुपये

(द) 50 रुपये

उत्तर -(स) 20 रुपये

## अध्याय 12

### समय

प्रश्न 1. एक सप्ताह में कितने दिन होते हैं?

(अ) 2

(ब) 4

(स) 5

(द) 7

उत्तर -(द) 7

प्रश्न 2. शुक्रवार के ठीक बाद कौन सा दिन आता है?

(अ) शनिवार

(ब) सोमवार

(स) रविवार

(द) मंगलवार

उत्तर -(अ) शनिवार

प्रश्न 3. सोमवार के ठीक पहले कौन सा दिन आता है?

(अ) बुधवार

(ब) शनिवार

(स) रविवार

(द) शुक्रवार

उत्तर -(स) रविवार

प्रश्न 4. 1 वर्ष में कुल कितने महिने होते हैं?

(अ) 7

(ब) 12

(स) 24

(द) 10

उत्तर -(ब) 12

प्रश्न 5. वर्ष में पहला महिना कौन सा है?

(अ) मार्च

(ब) जून

(स) जुलाई

(द) जनवरी

उत्तर -(द) जनवरी

प्रश्न 6. जून के ठीक बाद कौन सा महिना आता है?

(अ) अगस्त

(ब) जुलाई

(स) अक्टूबर

(द) दिसंबर

उत्तर -(ब) जुलाई

प्रश्न 7. वर्ष के अंत में कौन सा महिना आता है?

(अ) दिसंबर

(ब) नवंबर

(स) सितंबर


(द) अक्टूबर

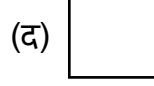
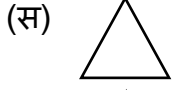
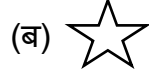
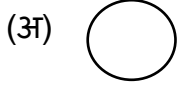
उत्तर -(अ) दिसंबर





## अध्याय 13

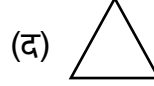
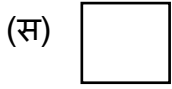
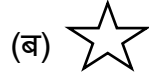
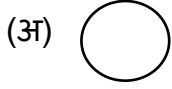
### आकृति


प्रश्न 1.  इस तरह की आकृति कौन सी है?




उत्तर - (ब) 

प्रश्न 2.  इस तरह की आकृति कौन सी है?



उत्तर - (स) 

प्रश्न 3.  इस तरह की आकृति को क्या कहते हैं?


(अ) गोल

(ब) चौकोर

(स) चपटा

(द) त्रिकोण

उत्तर - (द) त्रिकोण

प्रश्न 4.  इस तरह की आकृति को क्या कहते हैं?

(अ) त्रिकोण

(ब) चौकोर

(स) गोल

(द) बेलन

उत्तर - (ब) चौकोर

प्रश्न 5. गेंद की आकृति होती है?

(अ) गोल

(ब) त्रिकोण

(स) चौकोन


(द) लंबा

उत्तर - (अ) गोल

## अध्याय 14

### आँकड़ों की समझ

इस चित्र को देखकर नीचे लिखे प्रश्नों के उत्तर -दो।



प्रश्न 1. इस चित्र में  जैसी आकृति कितनी है?

(अ) 1

(ब) 2

(स) 3

(द) 5

उत्तर - (द) 5

प्रश्न 2. इस चित्र में  जैसी आकृति कितनी है?

(अ) 2

(ब) 2

(स) 3

(द) 4

उत्तर - (द) 4

प्रश्न 3. इस चित्र में  जैसी आकृति कितनी है?

(अ) 4


(ब) 6

(स) 7

(द) 8

उत्तर - (स) 7


प्रश्न 4. इस चित्र में कौन सी आकृति सबसे अधिक बार आई है?

(अ) 

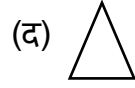
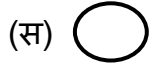
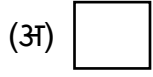
(ब) 


(स) 

(द) 

उत्तर - (ब) 

प्रश्न 5. इस चित्र में कौन सी आकृति सबसे कम बार आई है?



उत्तर - (अ) 

# बढ़ते कदम आकलन से शैक्षिक गुणवत्ता की ओर...

समरूपता, वैधता, विश्वसनीयता

